

SULIT
3472/2
Matematik
Tambahan
Kertas 2
Ogos
2019

3472/2



MAKTAB RENDAH SAINS MARA

PEPERIKSAAN AKHIR SIJIL PENDIDIKAN MRSM 2019

MATEMATIK TAMBAHAN

Kertas 2

Dua jam tiga puluh minit

JANGAN BUKA KERTAS PEPERIKSAAN INI SEHINGGA DIBERITAHU

1. *Kertas peperiksaan ini adalah dalam dwibahasa.*
2. *Soalan dalam bahasa Inggeris mendahului soalan yang sepadan dalam bahasa Melayu.*
3. *Calon dikehendaki membaca maklumat di halaman belakang Kertas peperiksaan ini.*
4. *Calon dikehendaki menceraikan halaman 27 dan ikat sebagai muka hadapan bersama-sama dengan buku jawapan.*

cikgujep.com
blog matematik tambahan

Kertas peperiksaan ini mengandungi 28 halaman bercetak.

3472/2

©2019 Hak Cipta Bahagian Pendidikan Menengah MARA

[Lihat halaman sebelah
SULIT

Section A
Bahagian A

[40 marks]
[40 markah]

Answer **all** questions.
Jawab **semua** soalan.

- 1 (a) Sketch the graph of $y = 1 - 2 \tan x$ for $0 \leq x \leq 2\pi$. [3 marks]

Lakarkan graf bagi $y = 1 - 2 \tan x$ untuk $0 \leq x \leq 2\pi$. [3 markah]

- (b) Hence, using the same axes, sketch a suitable straight line to find the number of solutions for the equation $2\pi \tan x = -x$.

State the number of solutions. [3 marks]

Seterusnya, dengan menggunakan paksi yang sama, lakar satu garis lurus yang sesuai untuk mencari bilangan penyelesaian bagi persamaan $2\pi \tan x = -x$.

Nyatakan bilangan penyelesaian itu. [3 markah]

- 2 Solve the equation

Selesaikan persamaan

$$\log_9 x^2 - \log_3(x-4) = \log_3 5.$$

[5 marks]

[5 markah]

[Lihat halaman sebelah
SULIT

- 3 Diagram 1 shows a plan of 5 terraced houses to be built on Encik Azman's land.

Rajah 1 menunjukkan pelan bagi 5 buah rumah teres yang akan dibina di atas tanah Encik Azman.

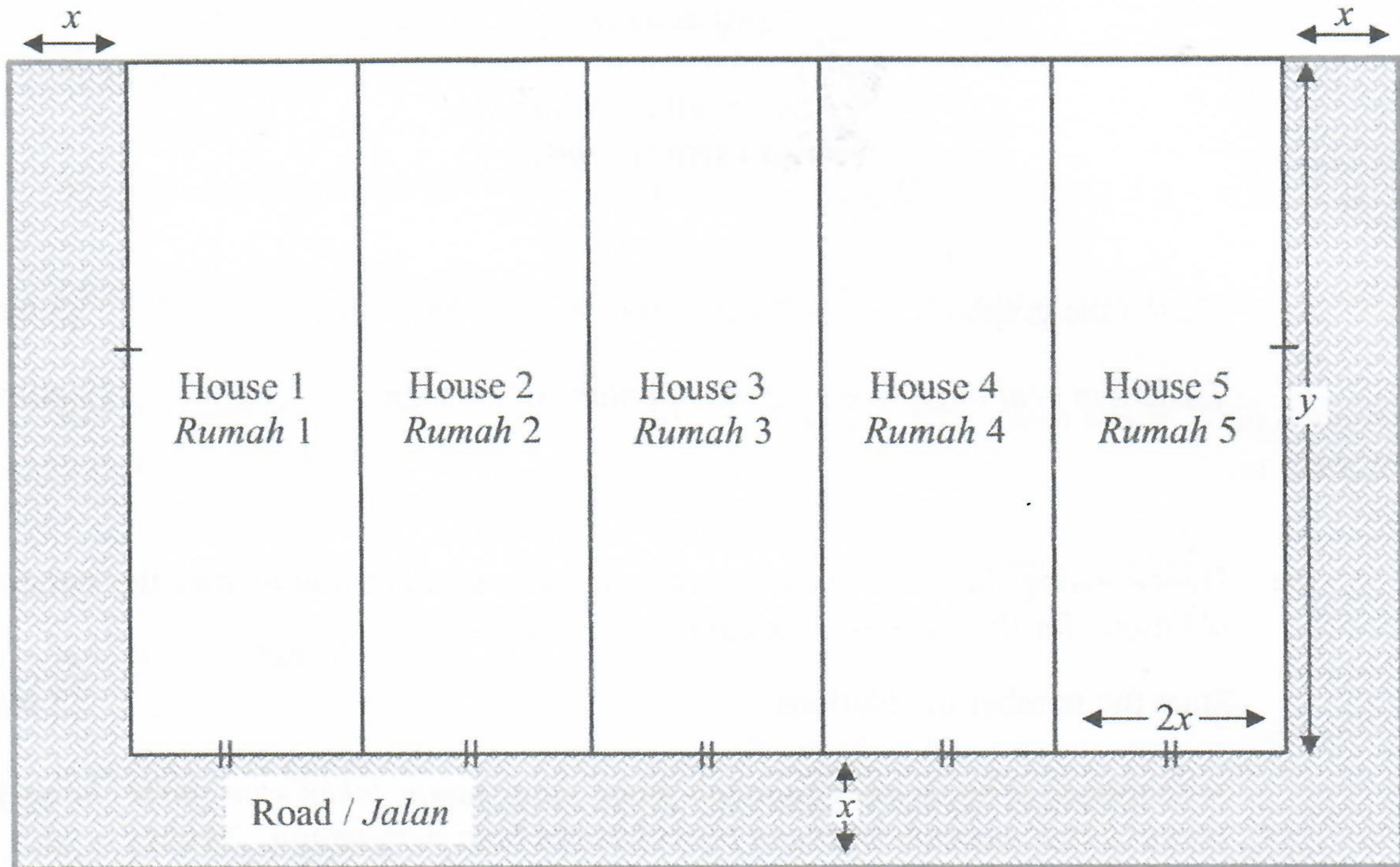


Diagram 1
Rajah 1

The perimeter of the whole 5 houses is 160 metre. He allocated an area of 600 metre^2 to construct a road in front of the houses and on both sides of the end lot as in Diagram 1. The width of the road is x metre.

Find the length and width, in metre, of each house. [6 marks]

Perimeter kesemua 5 buah rumah ialah 160 meter. Dia memperuntukkan luas sebanyak 600 meter^2 untuk membina jalan di hadapan dan kedua-dua sisi rumah lot hujung seperti Rajah 1. Lebar jalan ialah x meter.

Cari panjang dan lebar, dalam meter, setiap rumah. [6 markah]

- 4 Diagram 2 shows a parallelogram $PQRS$. The straight line PT intersects with the straight line SR at point U .

Rajah 2 menunjukkan sebuah segi empat selari $PQRS$. Garis lurus PT bersilang dengan garis lurus SR di titik U .

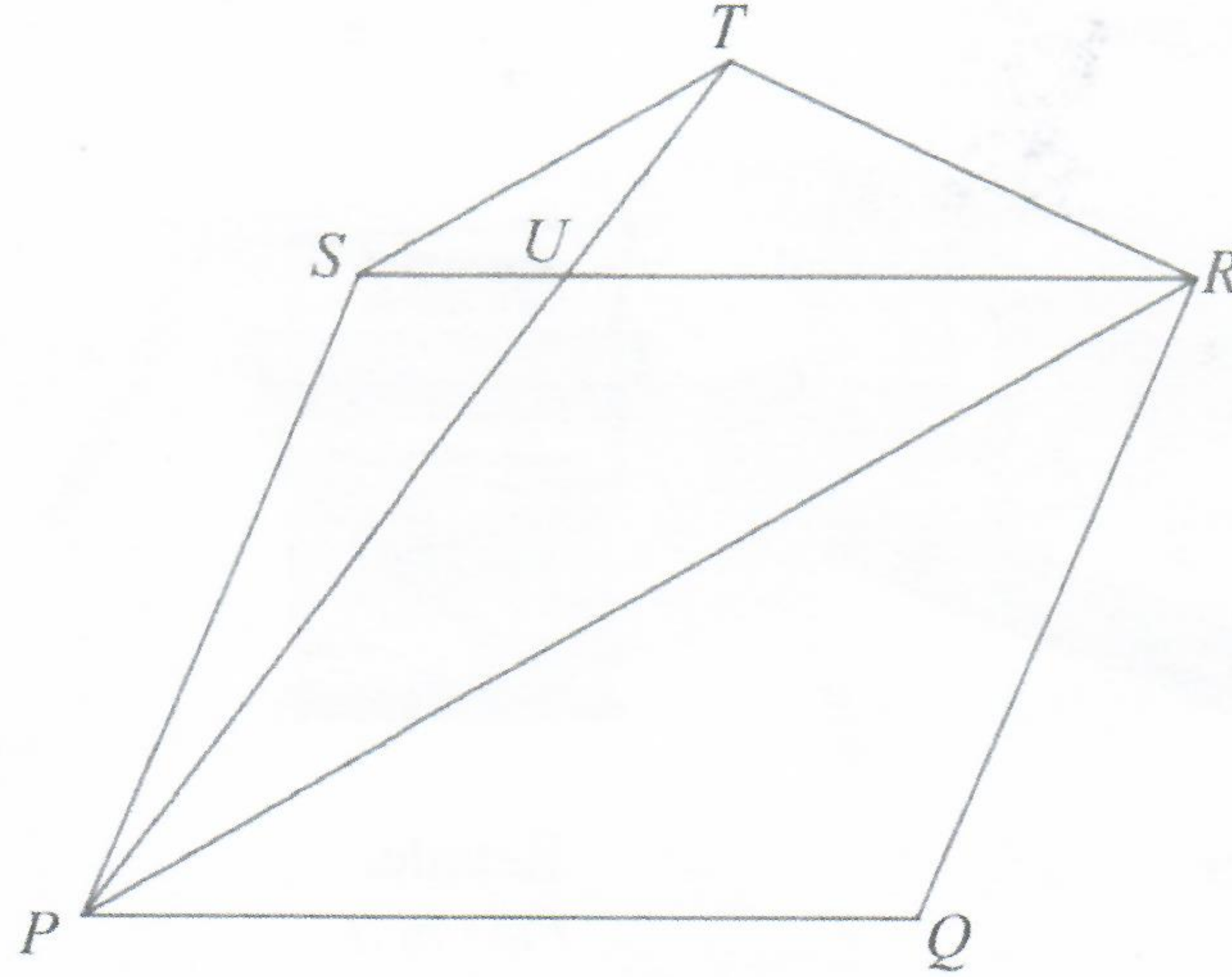


Diagram 2
Rajah 2

It is given that $\overrightarrow{PQ} = 8\underline{p}$, $\overrightarrow{PS} = 2\underline{q}$ and $\overrightarrow{SU} = \frac{1}{4}\overrightarrow{SR}$.

Diberi bahawa $\overrightarrow{PQ} = 8\underline{p}$, $\overrightarrow{PS} = 2\underline{q}$ dan $\overrightarrow{SU} = \frac{1}{4}\overrightarrow{SR}$.

- (a) Express in terms of \underline{p} and / or \underline{q} :

Ungkapkan dalam sebutan \underline{p} dan / atau \underline{q} :

- (i) \overrightarrow{SU} ,
(ii) \overrightarrow{PR} .

[3 marks]
[3 markah]

- (b) Given $\overrightarrow{PT} = m\overrightarrow{PU}$, where m is a constant, express \overrightarrow{ST} in terms of m , \underline{p} and \underline{q} .

Diberi $\overrightarrow{PT} = m\overrightarrow{PU}$, dengan keadaan m ialah pemalar, ungkapkan \overrightarrow{ST} dalam sebutan m , \underline{p} dan \underline{q} .

[1 mark]
[1 markah]

- (c) Given $PRTS$ is a trapezium, find the value of m .

Diberi $PRTS$ adalah trapezium, cari nilai m .

[4 marks]
[4 markah]

[Lihat halaman sebelah

- 5 Diagram 3 shows pictures of a manufacturer, a retailer and a customer. The handbags produced by the manufacturer will be sent to retailer before selling them to customers.

Rajah 3 menunjukkan gambar-gambar pengilang, peruncit dan pelanggan. Beg tangan yang telah dihasilkan oleh pengilang akan dihantar kepada peruncit sebelum dijual kepada pelanggan.



Diagram 3
Rajah 3

During a sales promotion, the manufacturer offers a RM75 rebate from RM x to the retailer. While the retailer offers a 5% discount from RM x to the customers.

Semasa promosi jualan, pengilang menawarkan rebat RM75 daripada RM x kepada peruncit. Manakala peruncit pula menawarkan diskaun 5% daripada RM x kepada pelanggan.

- (a) Find the price that the customer has to pay for a handbag in terms of x . [3 marks]

Cari harga yang perlu pelanggan bayar untuk sebuah beg tangan dalam sebutan x . [3 markah]

- (b) If a customer buys a new handbag at the price of RM 499.90,

Jika pelanggan membeli beg tangan baharu dengan harga RM 499.90,

- (i) find the price from the manufacturer,
cari harga dari pengilang,
- (ii) calculate the profit gained by the retailer.

hitung keuntungan yang diperolehi oleh peruncit.

[4 marks]
[4 markah]

- 6 Diagram 4 shows an open container in the shape of half cylinder with wood supports. The radius of each semicircle is r metre and the length of the container is p metre.

Rajah 4 menunjukkan sebuah bekas terbuka berbentuk separuh silinder dengan kayu penyokong. Jejari setiap semibulatan ialah r meter dan panjang bekas ialah p meter.




Diagram 4
Rajah 4

It is given that 160 metre^2 of thin metal sheet is used to build the container.

Diberi bahawa 160 meter^2 kepingan besi nipis digunakan untuk membina bekas tersebut.

- (a) Show that the volume, $V \text{ metre}^3$, of the container is given by

Tunjukkan bahawa isipadu, $V \text{ meter}^3$, bekas diberi oleh

$$V = 80r - \frac{\pi r^3}{2}$$

[3 marks]
[3 markah]

- (b) If the container is completely filled with water, find the volume, in metre^3 , of the water.

Jika bekas tersebut diisi sepenuhnya dengan air, cari isipadu, dalam meter^3 , air tersebut.

[5 marks]
[5 markah]

[Lihat halaman sebelah

Section B
Bahagian B

[40 marks]

[40 markah]

Answer any **four** questions from this section.

Jawab mana-mana empat soalan daripada bahagian ini.

- 7 (a) A box contains two types of oranges, M and N in the ratio of 3 : 4. If 7 oranges are picked at random from the box, find the probability that

Sebuah kotak mengandungi dua jenis oren, M dan N dengan nisbah 3 : 4. Jika 7 biji oren dipilih secara rawak daripada kotak itu, cari kebarangkalian bahawa

- (i) 6 chosen oranges are type N ,

6 biji oren yang dipilih adalah jenis N ,

- (ii) at least 2 oranges of type M are picked.

sekurang-kurangnya 2 biji oren jenis M dipilih.

[5 marks]

[5 markah]

- (b) The time taken to answer the formative test of Additional Mathematics Form 5 follows a normal distribution with a mean of 90 minutes and a standard deviation of 12 minutes.

Masa yang diambil untuk menjawab ujian formatif Matematik Tambahan Tingkatan 5 mengikut taburan normal dengan min 90 minit dan sisihan piawai 12 minit.

- (i) If a student is randomly selected, find the probability that he takes less than 81 minutes or more than 108 minutes to answer the test.

Jika seorang pelajar dipilih secara rawak, cari kebarangkalian bahawa pelajar tersebut mengambil masa kurang daripada 81 minit atau lebih daripada 108 minit untuk menjawab ujian tersebut.

- (ii) It is found that 5% of students take less than t minutes to answer the test, find the value of t .

Didapati bahawa 5% daripada pelajar itu mengambil masa kurang daripada t minit untuk menjawab ujian tersebut, cari nilai t .

[5 marks]

[5 markah]

- 8 Diagram 5 shows a straight line DP which is normal to the curve at point $P(4, 12)$.

Rajah 5 menunjukkan garis lurus DP yang merupakan normal kepada lengkung pada titik $P(4, 12)$.

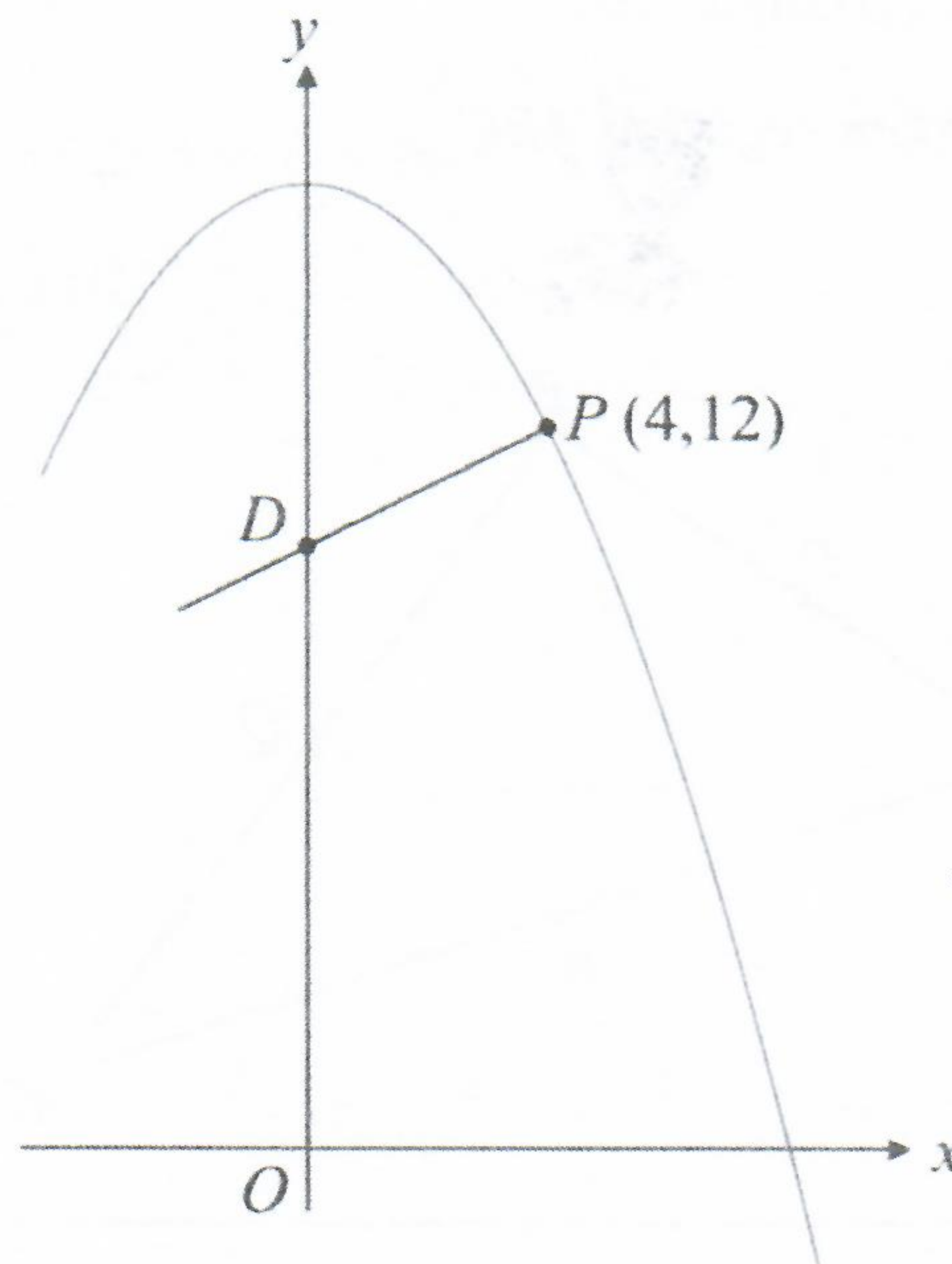


Diagram 5
Rajah 5

The gradient function of the curve is $-\frac{1}{2}x$.

Fungsi kecerunan bagi lengkung tersebut ialah $-\frac{1}{2}x$.

- (a) Find

Cari

- (i) the y -coordinate of point D ,

koordinat y bagi titik D ,

- (ii) the equation of the curve.

persamaan lengkung tersebut.

[6 marks]

[6 markah]

- (b) The volume generated when the region bounded by the curve, the y -axis and the straight line $y = k$ is revolved through 360° about the y -axis is 50π unit³.

Find the value of k .

[4 marks]

Isipadu yang dijanakan apabila rantau yang dibatasi oleh lengkung, paksi- y dan garis lurus $y = k$ dikisarkan melalui 360° pada paksi- y ialah 50π unit³.

Cari nilai k .

[4 markah]

[Lihat halaman sebelah

- 9 Solution by scale drawing is not accepted.

Penyelesaian secara lukisan berskala tidak diterima.

Diagram 6 shows a triangle ABC .

Rajah 6 menunjukkan segi tiga ABC .

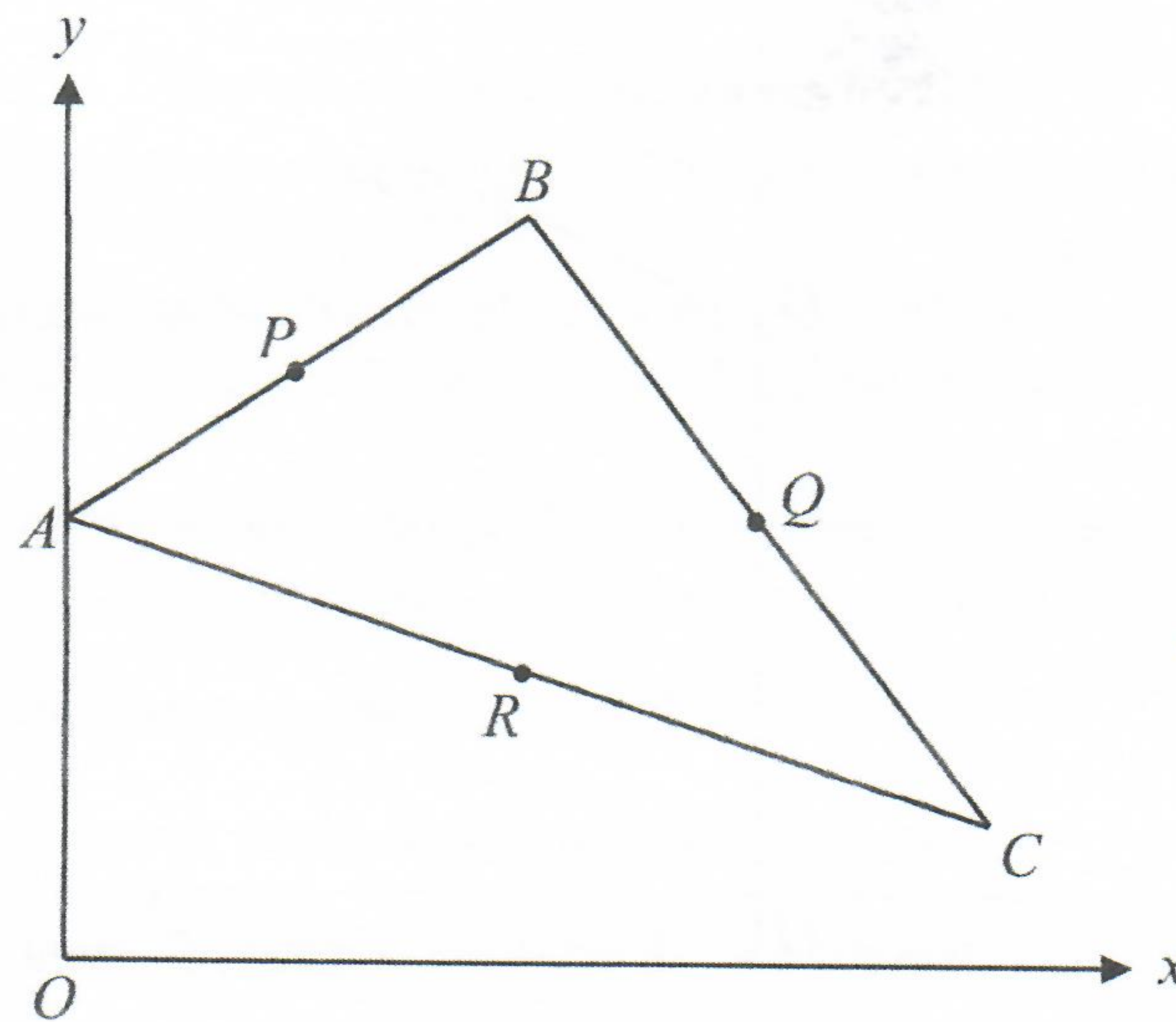


Diagram 6
Rajah 6

The points $P(3, 8)$, $Q(9, 6)$ and $R(6, 4)$ are midpoints of straight lines AB , BC and AC respectively, such that $APQR$ forms a parallelogram. The straight line AB intersects the y -axis at point A and the equation of straight line AB is $3y = 2x + 18$.

Titik-titik $P(3, 8)$, $Q(9, 6)$ dan $R(6, 4)$ masing-masing adalah titik tengah garis lurus AB , BC dan AC , di mana $APQR$ membentuk sebuah segi empat selari. Garis lurus AB menyalang paksi- y di titik A dan persamaan garis lurus AB ialah $3y = 2x + 18$.

- (a) Straight line AB is extended until it intersects with the perpendicular bisector of straight line AC at point M .

Garis lurus AB dipanjangkan sehingga bersilang dengan pembahagi dua sama seranjang garis lurus AC pada titik M .

Find

Cari

- (i) the equation of the perpendicular bisector of straight line AC ,
persamaan pembahagi dua sama seranjang garis lurus AC ,
- (ii) the coordinates of M .
koordinat M .

[5 marks]
[5 markah]

- (b) If the straight line AQ is extended to a point G such that $AQ : QG = 2 : 3$, find the coordinates of G . [2 marks]

Jika garis lurus AQ dipanjangkan ke titik G dengan keadaan $AQ : QG = 2 : 3$, cari koordinat G . [2 markah]

- (c) Calculate the area of the triangle AGC . [3 marks]

Hitung luas segi tiga AGC . [3 markah]

- 10 Use the graph paper provided on page 23 to answer this question. Detach the graph paper and tie together with your answer booklet.

Gunakan kertas graf yang disediakan pada halaman 23 untuk menjawab soalan ini. Ceraikan kertas graf itu dan ikat bersama-sama buku jawapan anda.

Table 1 shows the values of two variables, x and y , obtained from an experiment.

Variable x and y are related by the equation $y = rx^2 + \frac{s}{x}$, where r and s are constants.

Jadual 1 menunjukkan nilai-nilai bagi dua pembolehubah, x dan y yang diperolehi daripada satu eksperimen. Pembolehubah x dan pembolehubah y dihubungkan oleh persamaan $y = rx^2 + \frac{s}{x}$, dengan keadaan r dan s ialah pemalar.

x	0.82	1.00	1.15	1.30	1.45	1.54
y	106.10	80.00	63.48	48.46	35.17	27.27

Table 1
Jadual 1

- (a) Plot xy against x^3 , by using a scale of 2 cm to 0.5 unit on the x^3 -axis and 2 cm to 10 units on the xy -axis. Hence, draw the line of best fit. [5 marks]

Plot xy melawan x^3 , dengan menggunakan skala 2 cm kepada 0.5 unit pada paksi- x^3 dan 2 cm kepada 10 unit pada paksi- xy . Seterusnya, lukis graf garis lurus penyuaian terbaik. [5 markah]

- (b) Use your graph from 10(a) to find the value of

Gunakan graf anda dari 10(a) untuk mencari nilai

(i) r ,

(ii) s ,

(iii) x if $y = \frac{45}{x}$.

x jika $y = \frac{45}{x}$.

[5 marks]
[5 markah]

11 Diagram 7 shows two sectors XPR and OPR with centres X and O respectively.

Rajah 7 menunjukkan dua sektor XPR dan OPR dengan pusat masing-masing ialah X dan O .

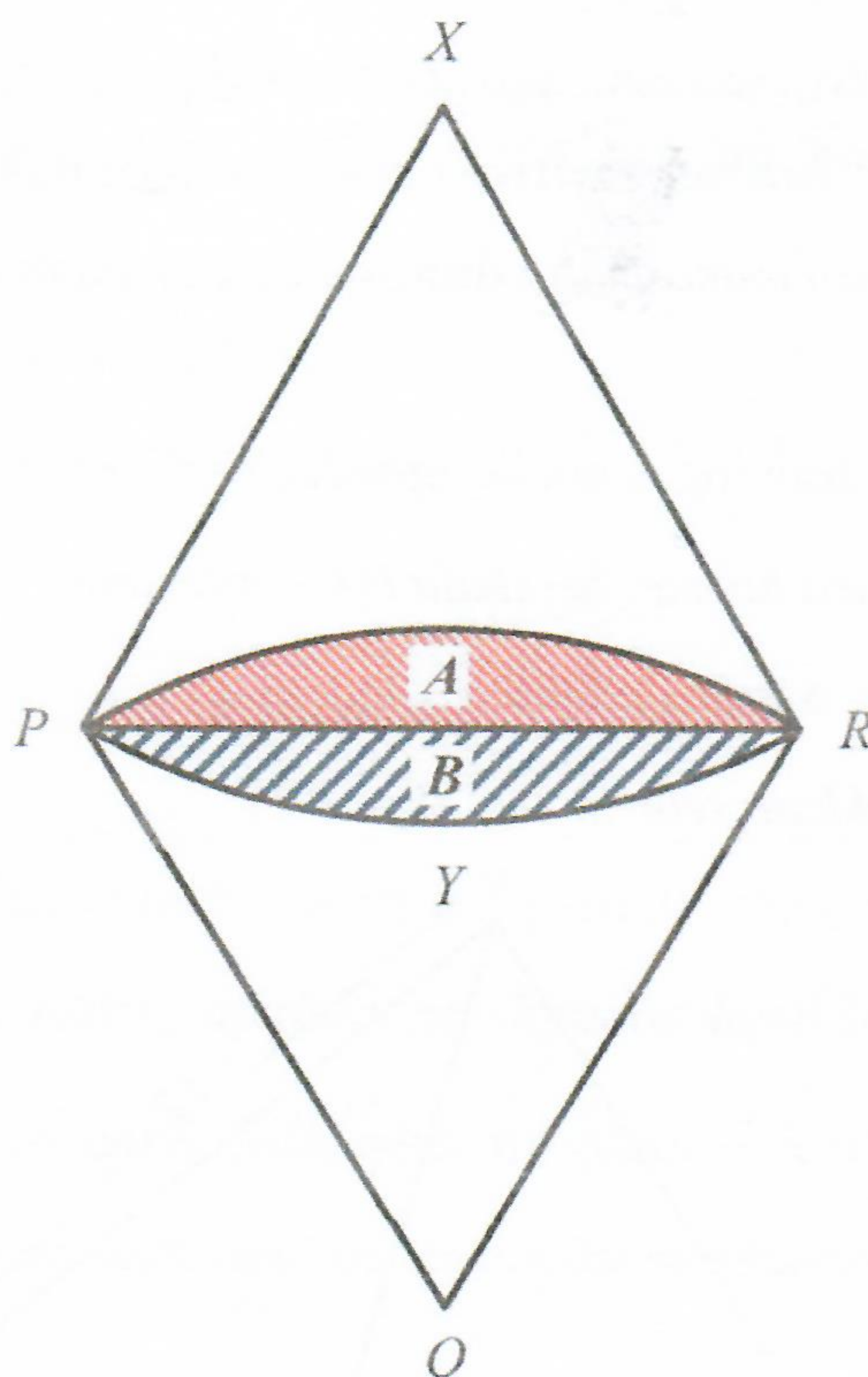


Diagram 7
Rajah 7

It is given that the length of OR is 10 cm, $\angle PXR = 1.039$ radians, $\angle POR = 1.094$ radians and the length of arc PYR is 10.89 cm.

Diberi bahawa panjang OR ialah 10 cm, $\angle PXR = 1.039$ radian, $\angle POR = 1.094$ radian dan panjang lengkok PYR ialah 10.89 cm.

[Use / Guna $\pi = 3.142$]

Find

Cari

- (a) the perimeter, in cm, of the shaded region A , [5 marks]
 perimeter, dalam cm, kawasan berlorek A , [5 markah]
- (b) the area, in cm^2 , of region B . [5 marks]
 luas, dalam cm^2 , kawasan berlorek B . [5 markah]

[Lihat halaman sebelah
SULIT

Section C
Bahagian C

[20 marks]

[20 markah]

Answer any **two** questions from this section.

Jawab mana-mana **dua** soalan daripada bahagian ini.

- 12** Solution by scale drawing is not accepted.

Penyelesaian secara lukisan berskala tidak diterima.

Diagram 8 shows a triangle PRS .

Rajah 8 menunjukkan sebuah segi tiga PRS .

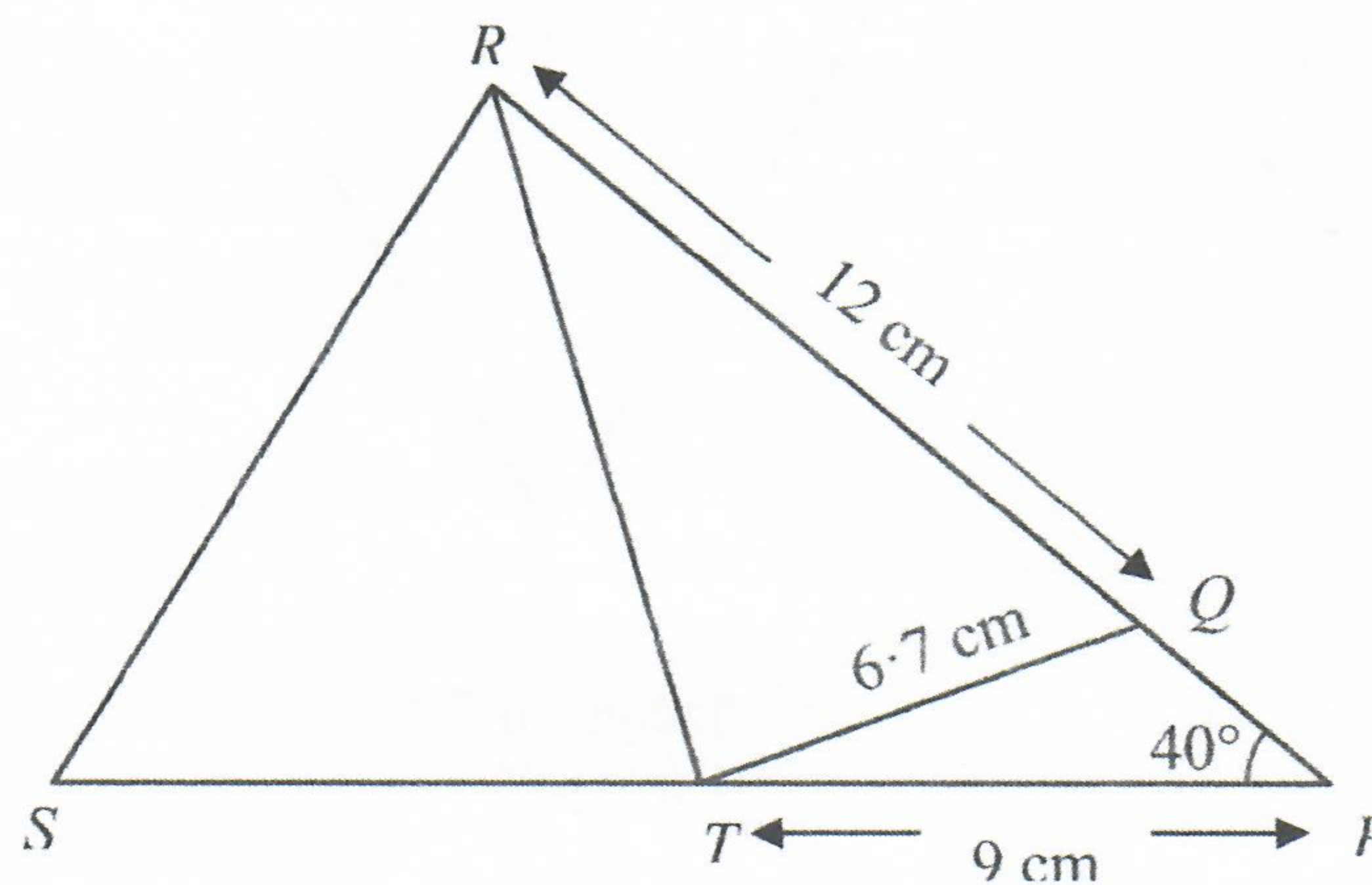


Diagram 8
Rajah 8

It is given that PQR and PTS are straight lines and $\angle PQT$ is an obtuse angle.
Diberi bahawa PQR dan PTS ialah garis lurus dan $\angle PQT$ ialah sudut cakah.

- (a) Find
- the length, in cm, of RT ,
Cari panjang, dalam cm, bagi RT ,
 - $\angle QTR$. [6 marks]
[6 markah]
- (b) If the area of triangle RST is 45 cm^2 , calculate the length, in cm, of ST . [3 marks]
Jika luas segi tiga RST ialah 45 cm^2 , hitung panjang, dalam cm, bagi ST . [3 markah]
- (c) Point Q' lies on RP such that $TQ' = TQ$. Sketch the triangle PTQ' . [1 mark]
Titik Q' berada pada RP dengan keadaan $TQ' = TQ$. Lakarkan segi tiga PTQ' . [1 markah]

- 13 A particle X moves along a straight line and passes through a fixed point O with a velocity of $v \text{ ms}^{-1}$, given by $v = 2t^2 - 5t - 3$, where t is the time in seconds after leaving the point O .

Suatu zarah X bergerak pada satu garis lurus dan melalui titik tetap O dengan halaju $v \text{ ms}^{-1}$, diberi oleh $v = 2t^2 - 5t - 3$, di mana t ialah masa dalam saat selepas meninggalkan titik O .

[Assume motion to the right is positive]

[Anggap gerakan ke arah kanan sebagai positif]

- (a) Find

Cari

- (i) the displacement, in metre, when the particle stops instantaneously,
sesaran, dalam meter, apabila zarah itu berhenti seketika,
- (ii) the range of time, in seconds, when the particle decelerates.
julat masa, dalam saat, apabila zarah itu mengalami nyahpecutan.

[6 marks]

[6 markah]

- (b) Sketch the velocity–time graph of the particle for $0 \leq t \leq 5$.
Hence or otherwise, find the total distance travelled, in metre, by the particle in the first 5 seconds.

[4 marks]

*Lakarkan graf halaju-masa bagi zarah itu untuk $0 \leq t \leq 5$.
Seterusnya atau dengan kaedah lain, cari jumlah jarak, dalam meter, yang dilalui oleh zarah itu dalam 5 saat pertama.*

[4 markah]

- 14 Use the graph paper provided on page 25 to answer this question. Detach the graph paper and tie it together with your answer booklet.

Gunakan kertas graf yang disediakan pada halaman 25 untuk menjawab soalan ini. Ceraikan kertas graf itu dan ikat bersama-sama buku jawapan anda.

Latifah earns a salary of RM3 000 per month. She saves RM x of her salary on children's education and RM y on family recreational activities. She allocates her monthly saving based on the following constraints:

Latifah mendapat gaji sebanyak RM3 000 sebulan. Dia menyimpan RM x dari gajinya untuk pendidikan anak-anak dan RM y untuk aktiviti rekreasi keluarga. Dia memperuntukkan simpanan bulannya berdasarkan kekangan berikut:

- I The monthly saving for her family recreational activities is at most twice the monthly saving for her children's education.

Simpanan bulanan untuk aktiviti rekreasi keluarga adalah selebih-lebihnya dua kali simpanan bulanan untuk pendidikan anak-anaknya.

- II The monthly saving for her family recreational activities is at least RM100 more than the monthly saving for her children's education.

Simpanan bulanan untuk aktiviti rekreasi keluarga adalah sekurang-kurangnya RM100 lebih daripada simpanan bulanan untuk pendidikan anak-anaknya.

- III The total monthly saving for her children's education and family recreational activities does not exceed 25 % of her monthly salary.

Jumlah simpanan bulanan untuk pendidikan anak-anak dan aktiviti rekreasi keluarga tidak melebihi 25 % daripada gaji bulannya.

- (a) Write three inequalities, other than $x \geq 0$ and $y \geq 0$, which satisfy all the above constraints. [3 marks]

Tulis tiga ketaksamaan, selain $x \geq 0$ dan $y \geq 0$, yang memenuhi semua kekangan di atas. [3 markah]

- (b) Using a scale of 2 cm to RM50 on both axes, construct and shade the region R which satisfies all the above constraints. [3 marks]

Dengan menggunakan skala 2 cm kepada RM50 pada kedua-dua paksi, bina dan lorek rantau R yang memenuhi semua kekangan di atas. [3 markah]

- (c) Using the graph constructed in 14(b), find

Menggunakan graf yang dibina di 14(b), cari

- (i) the range of her saving for family recreational activities if she spends RM200 a month on her children's education,

julat simpanan untuk aktiviti rekreasi keluarga jika dia menyimpan RM200 sebulan untuk pendidikan anak-anaknya,

- (ii) the minimum total saving for her children's education and family recreational activities in a year.

jumlah simpanan minima untuk pendidikan anak-anaknya dan aktiviti rekreasi keluarga dalam setahun.

[4 marks]

[4 markah]

- 14 Use the graph paper provided on page 25 to answer this question. Detach the graph paper and tie it together with your answer booklet.

Gunakan kertas graf yang disediakan pada halaman 25 untuk menjawab soalan ini. Ceraikan kertas graf itu dan ikat bersama-sama buku jawapan anda.

Latifah earns a salary of RM3 000 per month. She saves RM x of her salary on children's education and RM y on family recreational activities. She allocates her monthly saving based on the following constraints:

Latifah mendapat gaji sebanyak RM3 000 sebulan. Dia menyimpan RM x dari gajinya untuk pendidikan anak-anak dan RM y untuk aktiviti rekreasi keluarga. Dia memperuntukkan simpanan bulanannya berdasarkan kekangan berikut:

- I The monthly saving for her family recreational activities is at most twice the monthly saving for her children's education.

Simpanan bulanan untuk aktiviti rekreasi keluarga adalah selebih-lebihnya dua kali simpanan bulanan untuk pendidikan anak-anaknya.

- II The monthly saving for her family recreational activities is at least RM100 more than the monthly saving for her children's education.

Simpanan bulanan untuk aktiviti rekreasi keluarga adalah sekurang-kurangnya RM100 lebih daripada simpanan bulanan untuk pendidikan anak-anaknya.

- III The total monthly saving for her children's education and family recreational activities does not exceed 25 % of her monthly salary.

Jumlah simpanan bulanan untuk pendidikan anak-anak dan aktiviti rekreasi keluarga tidak melebihi 25 % daripada gaji bulanannya.

- (a) Write three inequalities, other than $x \geq 0$ and $y \geq 0$, which satisfy all the above constraints. [3 marks]

Tulis tiga ketaksamaan, selain $x \geq 0$ dan $y \geq 0$, yang memenuhi semua kekangan di atas. [3 markah]

- (b) Using a scale of 2 cm to RM50 on both axes, construct and shade the region R which satisfies all the above constraints. [3 marks]

Dengan menggunakan skala 2 cm kepada RM50 pada kedua-dua paksi, bina dan lorek rantau R yang memenuhi semua kekangan di atas. [3 markah]

- (c) Using the graph constructed in 14(b), find

Menggunakan graf yang dibina di 14(b), cari

- (i) the range of her saving for family recreational activities if she spends RM200 a month on her children's education,

julat simpanan untuk aktiviti rekreasi keluarga jika dia menyimpan RM200 sebulan untuk pendidikan anak-anaknya,

- (ii) the minimum total saving for her children's education and family recreational activities in a year.

jumlah simpanan minima untuk pendidikan anak-anaknya dan aktiviti rekreasi keluarga dalam setahun.

[4 marks]

[4 markah]

- 15 Diagram 9 shows a bar chart on the average monthly number of pairs of tennis, badminton, football and golf shoes sold in the year 2015.

Rajah 9 menunjukkan carta palang purata bulanan bilangan pasang kasut tenis, badminton, bola sepak dan golf yang dijual pada tahun 2015.

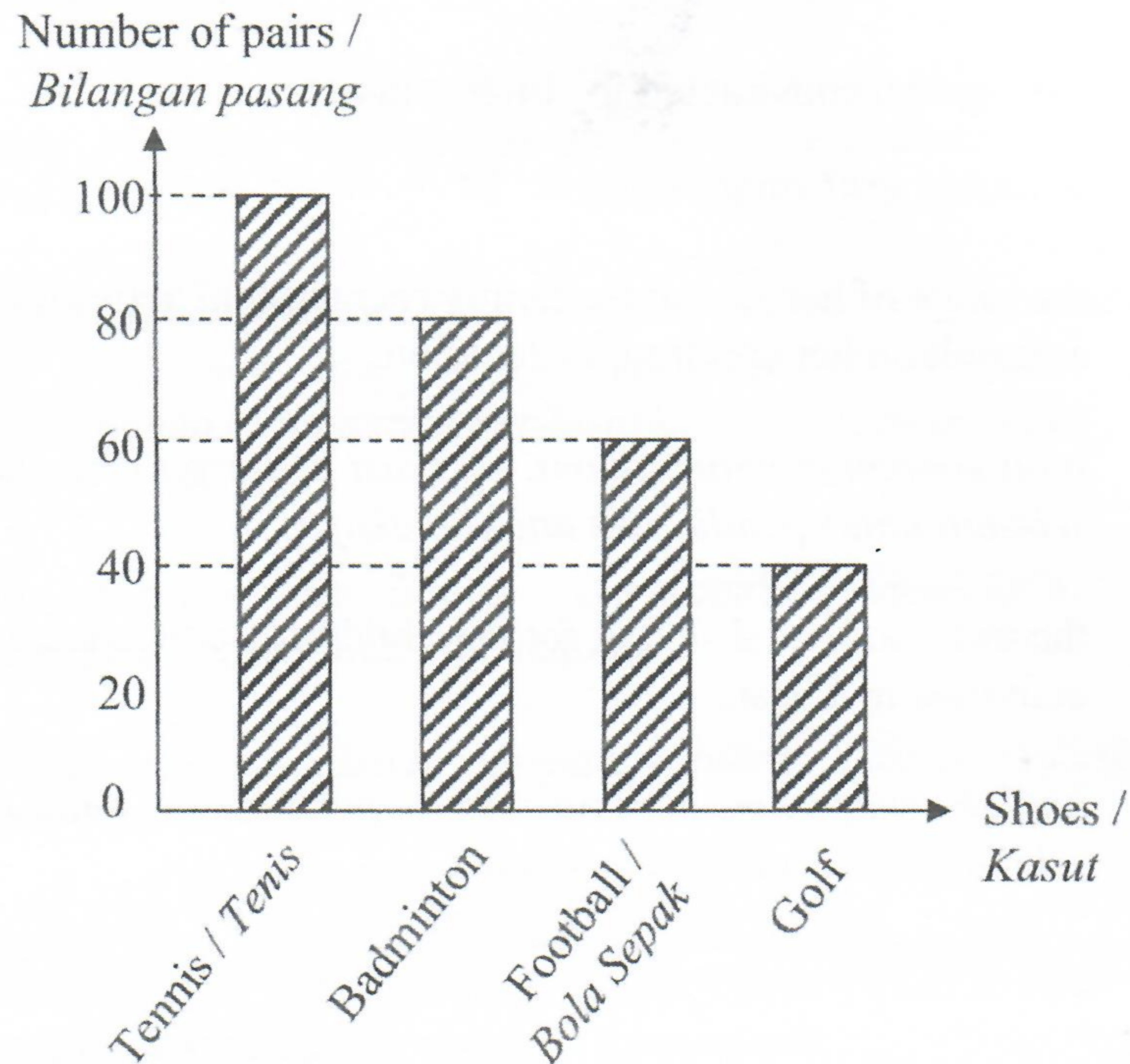


Diagram 9
Rajah 9

Table 2 shows the prices and price indices of each pair of tennis, badminton, football and golf shoes in the year 2017 based on 2015.

Jadual 2 menunjukkan harga dan indeks harga bagi setiap pasang kasut tenis, badminton, bola sepak dan golf pada tahun 2017 berasaskan 2015.

Types of shoes <i>Jenis-jenis kasut</i>	Price per pair (RM) <i>Harga untuk satu pasang (RM)</i>		Price index in 2017 based on 2015 <i>Index harga pada 2017 berasaskan 2015</i>
	Year 2015 <i>Tahun 2015</i>	Year 2017 <i>Tahun 2017</i>	
Tennis / <i>Tenis</i>	r	220.00	110
Badminton	150.00	187.50	s
Football / <i>Bola sepak</i>	180.00	189.00	105
Golf	400.00	t	130

Table 2
Jadual 2

- (a) Find the value of r , s and t . [3 marks]
Cari nilai r , s dan t . [3 markah]
- (b) Using the data in Diagram 9 as the weightage, calculate the composite index of the four types of shoes in the year 2017 based on 2015. [2 marks]
Dengan menggunakan data dalam Rajah 9 sebagai pemberat, hitung indeks gubahan bagi keempat-empat jenis kasut pada tahun 2017 berasaskan 2015. [2 markah]
- (c) If the total monthly sales for these four types of shoes in January 2015 is RM75 000, find the corresponding total monthly sales in January 2017. Hence, calculate the average daily sales for that month. [3 marks]
Jika jumlah jualan bulanan bagi empat jenis kasut itu pada Januari 2015 ialah RM75 000, cari jumlah jualan bulanan yang sepadan pada Januari 2017. Seterusnya, kira purata jualan harian bagi bulan tersebut. [3 markah]
- (d) The average prices of the shoes are expected to rise by 40% from the year 2015 to the year 2019. Calculate the composite index of the year 2019 based on 2017. [2 marks]
Harga purata kasut-kasut dijangkakan akan naik sebanyak 40% dari tahun 2015 ke tahun 2019. Hitung indeks gubahan tahun 2019 berasaskan 2017. [2 markah]

END OF QUESTION PAPER
KERTAS SOALAN TAMAT